

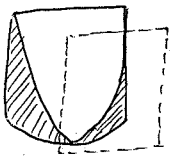
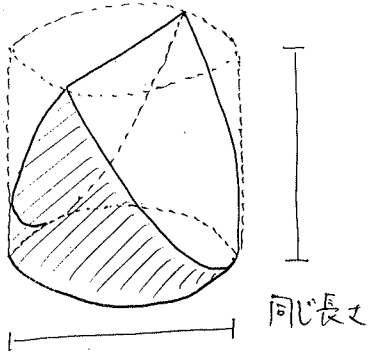
立体を様々な角度から見てみよう

- 1 ある人が木片で、ある立体を作りました。この立体を見ると、見る方向によって正方形にも、三角形にも、円にも見えるのです。それはいったいどんな立体を、どのように作ったのでしょうか。（図を描いてみよう）

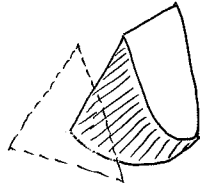
<答>

← 直円柱とナイフなどで

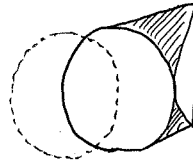
両側削ったもの



正方形



三角形



円